

EU peníze školám

Pracovní list: Jehličnaté dřeviny a houby

VY_32_INOVACE ICT8A_14

Předmět: Přírodověda
Tematický okruh: Rozmanitost přírodnin
Ročník: 4.
Školní rok: 2011/2012

Anotace:

Žáci opakují učivo o jehličnatých dřevinách a houbách.

Zdroje: kliparty sady Microsoft Office

jméno: _____

Jehličnaté dřeviny a houby

1. Zakroužkuj správnou odpověď:

Mezi neopadavé dřeviny patří:

- a) borovice, jilm, jalovec
- b) jalovec, modřín, borovice
- c) smrk, tis, jedle

Šiška jedle roste směrem:

- a) nahoru
- b) všemi směry
- c) dolů

Který jehličnan je jedovatý?

- a) tis červený
- b) jalovec obecný
- c) vraní oko čtyřlisté

Bukvice je:

- a) kůra buku
- b) bukový les
- c) plod buku

Jehlice modřínu rostou:

- a) ve svazcích
- b) po dvou
- c) každá zvlášť

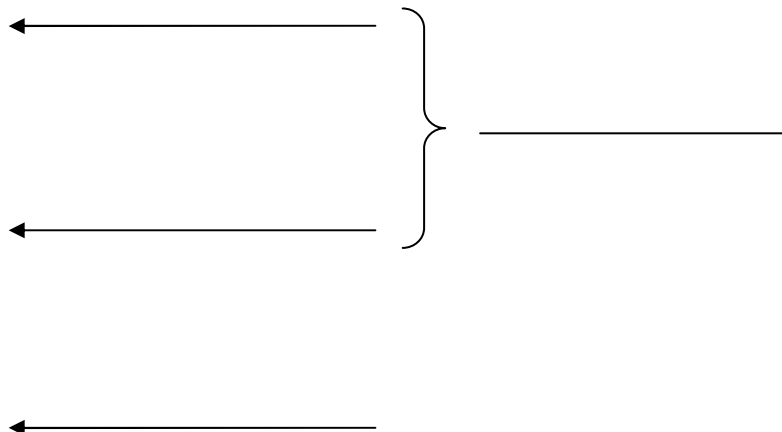

Vývraty jsou větrem vyvrácené převážně:

- a) borovice
- b) smrky
- c) jalovce

2. Utvoř správné dvojice a запиš (např. a 1):

- | | | |
|-------------------------------|-------------|---|
| a vývraty | 1. bříza | a |
| b laločnaté listy | 2. borovice | b |
| c jehnědy | 3. modřín | c |
| d hladká šedá kůra | 4. smrk | d |
| e dlouhá jehlice ve dvojicích | 5. buk | e |
| f malé kulaté šišky | 6. dub | f |

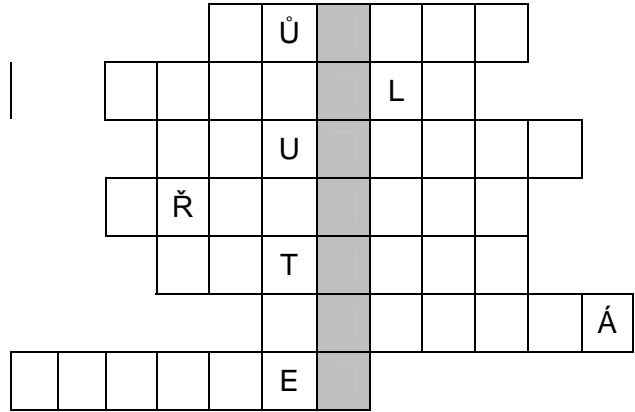
3. Popiš hlavní části těla hub:



EU peníze školám

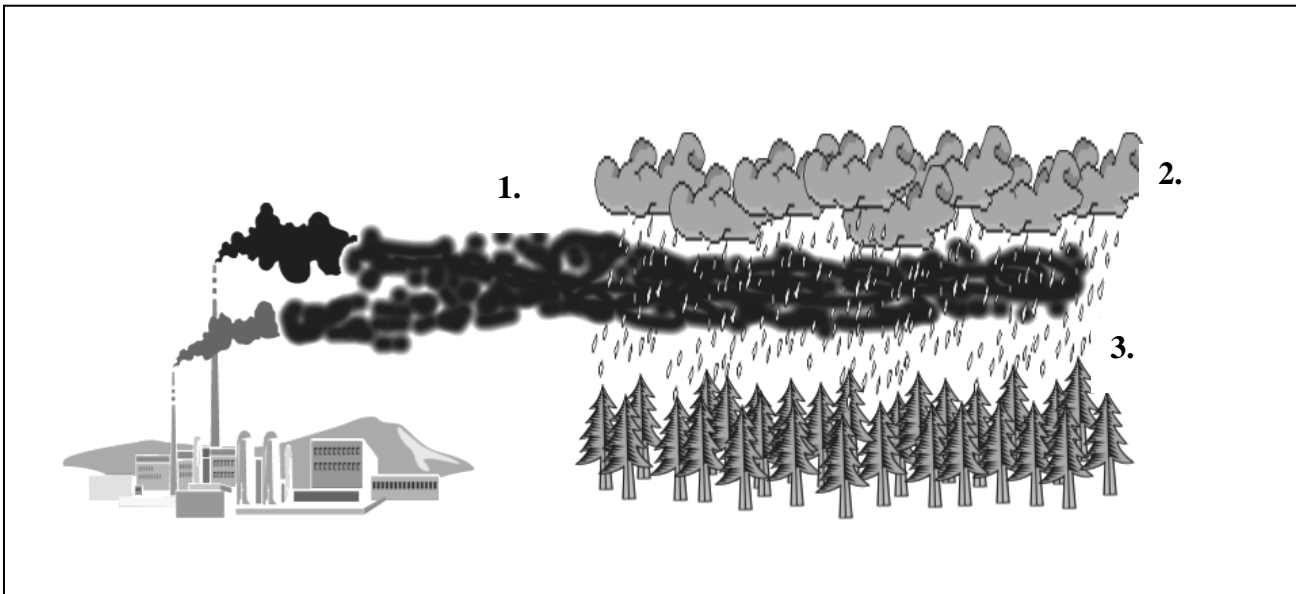
4. Doplň křížovku a vylušti tajenku:

1. Typ kořene borovice
2. Druhový název jasanu
3. Dubový les
4. Jedlá houba s rezavým kloboukem
5. Čím se houby rozmnožují
6. Barva plodu tisu
7. Zákonem chráněný jehličnan



Tajenka (krajské město):

5. Popiš ve třech bodech podle obrázku, k čemu dochází.



1.
2.
3.