

Pracovní list: Podnebné pásy 1.

Předmět: Přírodověda
Tematický okruh: Život na Zemi
Ročník: 5.
Školní rok: 2011/2012

Anotace:

Žáci opakují učivo o podnebných páslech a rostlinách i živočiších zde žijících.

Zdroje: kliparty sady Microsoft Office
vlastní archiv

EU peníze školám

Podnebné pásy - mírný a polární pás

1. Jak se jmenuje živočich a rostlina na obrázku? Napiš jejich jména a popiš, jak se přizpůsobili životu v prostředí, ve kterém žijí.



jméno:

kde žije:


jak se přizpůsobil:

.....

.....

.....

.....



jméno:

kde roste:

jak se přizpůsobil:

.....

.....

.....

.....

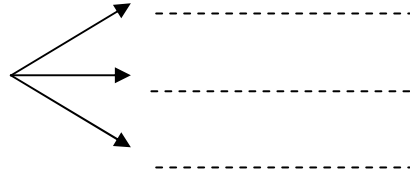
2. Step v Severní Americe se nazývá:
- a) pampa
 - b) tajga
 - c) prerie

3. V ČR se nachází:
- a) stepi
 - b) tajgy
 - c) smíšené lesy

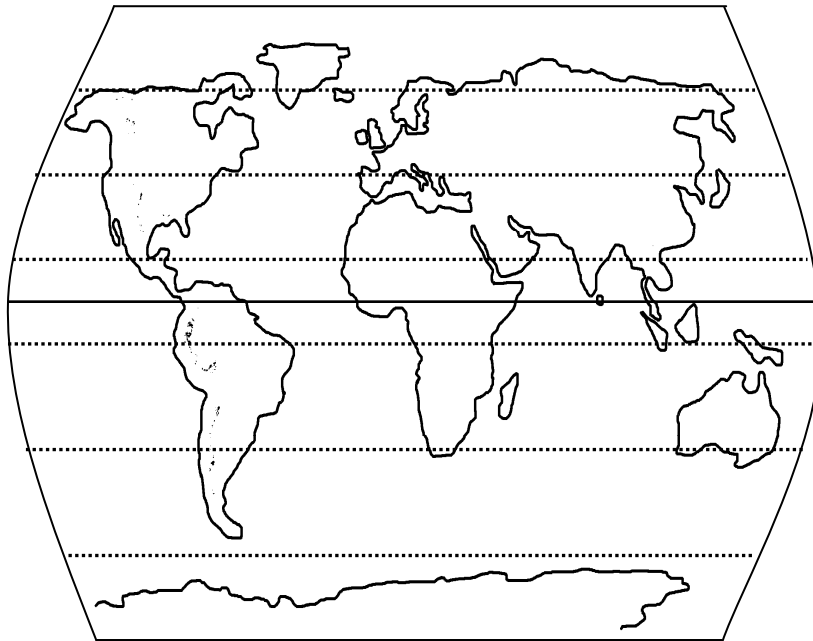
4. Tundra je rostlinné společenstvo:
- a) mírného pásu
 - b) severního polárního pásu
 - c) jižního polárního pásu

EU peníze školám


5. Jaká tři hlavní rostlinná společenstva mírného pásu známe?



6. Zakresli do mapy: a) žlutě, kde se nachází největší poušť světa
b) modře Středozemní moře
c) zeleně oblasti, kde se nacházejí tajgy



7. Polární pás dělíme na:



8. Co ohrožuje: a) tropické deštné lesy:

b) polární pás: