

## EU peníze školám

VY\_52\_INOVACE\_PV3A\_12

**Předmět: Zeměpis**

**Tematický okruh: Regiony světa**

**Ročník: 8.**

**Školní rok: 2011/2012**

### **Anotace:**

Pracovní listy slouží k procvičení a upevnění učiva o východní Evropě.

### **Zdroje:**

- galerie SMART Notebook
- 1. [http://commons.wikimedia.org/wiki/File:Moscow\\_Kremlin.jpg](http://commons.wikimedia.org/wiki/File:Moscow_Kremlin.jpg)
- 2. [http://commons.wikimedia.org/wiki/File:Maidan\\_at\\_night.JPG](http://commons.wikimedia.org/wiki/File:Maidan_at_night.JPG)
- 3. [http://commons.wikimedia.org/wiki/File:Riga\\_Pano.jpg](http://commons.wikimedia.org/wiki/File:Riga_Pano.jpg)
- 4. [http://commons.wikimedia.org/wiki/File:Tallinn-old\\_town\(2005-20-08\).03.jpg](http://commons.wikimedia.org/wiki/File:Tallinn-old_town(2005-20-08).03.jpg)



## EU peníze školám

Zubr Evropský žije divoce v NP (viz. tajenka) \_\_\_\_\_


### 2. Podle popisu poznej stát východní Evropy:

- a) Druhý největší stát Evropy, nížinatá země, tvořená úrodnou stepí, obilnice Evropy. Hlavními průmyslovými středisky jsou město Charkov, Doněck, Oděsa nebo Lvov. stát: \_\_\_\_\_
- b) Stát, který se rozkládá na dvou světadílech, na jeho území teče největší řeka Evropy. Průmyslovými středisky jsou např. Sankt Peterburg, Samara nebo Nižnij Novgorod. Stát má velké zásoby nerostných surovin. stát: \_\_\_\_\_
- c) Chudý vnitrozemský stát. Obyvatelstvo mluví románským jazykem. Je to zemědělský stát, kde se pěstuje hlavně tabák, vinná réva a ovoce. stát: \_\_\_\_\_  
Vnitrozemský stát, jehož třetina území je porostlá lesy. Procházejí tudy plynovody a ropovody z Ruska do Evropy. Na jeho území se nachází Bělověžský prales, kde žije zubr evropský. stát: \_\_\_\_\_  
Nejsevernější pobaltská země. Obyvatelstvo mluví ugrofinským jazykem. Nejvýznamnějším obchodním partnerem je Finsko. Stát rozvíjí cestovní ruch. stát: \_\_\_\_\_
- d) Pobaltská republika, jejíž polovina území je tvořena lesy. Významný zdroj příjmů tvoří těžba a zpracování dřeva. V zemi je početná ruská menšina. Vlajka státu je dvoubarevná – tvoří ji karmínově červená a bílá. stát: \_\_\_\_\_  
Největší a nejlidnatější pobaltská republika. Největší přístav je Klaipeda a významné město je Kaunas. Na pobřeží Baltského moře se těží 2/3 světové produkce jantaru. stát: \_\_\_\_\_


### EU peníze školám

### 3. Poznej státy podle obrysů, vybarvi vlajky států a doplň hlavní města.

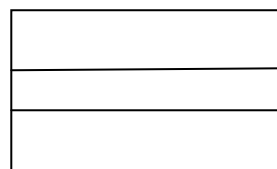
a) stát: \_\_\_\_\_ – hl. město: \_\_\_\_\_




b) stát: \_\_\_\_\_ – hl. město: \_\_\_\_\_




c) stát: \_\_\_\_\_ – hl. město: \_\_\_\_\_




d) stát: \_\_\_\_\_ – hl. město: \_\_\_\_\_



e) stát: \_\_\_\_\_ - hl. město: \_\_\_\_\_



f) stát: \_\_\_\_\_ - hl. město: \_\_\_\_\_



## EU peníze školám

g) stát: \_\_\_\_\_ - hl. město: \_\_\_\_\_




### 4. Napiš , co do skupiny logicky nepatří a proč?

a) Klaipeda – Tartu – Kaunas – Oděsa – Jelgava *nepatří*: \_\_\_\_\_,  
*důvod*: \_\_\_\_\_

b) Charkiv – Oděsa – Sankt Peterburg – Lviv – Zaporožžja  
*nepatří*: \_\_\_\_\_, *důvod*: \_\_\_\_\_

c) Hrodna - Ufa – Sankt Peterburg – Rostov na Donu *nepatří*: \_\_\_\_\_,  
*důvod*: \_\_\_\_\_

### 5. Které město je na obrázku? (nápodvěda. Riga, Tallin, Kyjev, Moskva)



město: \_\_\_\_\_



město: \_\_\_\_\_



město: \_\_\_\_\_



město: \_\_\_\_\_