

EU peníze školám

VY_52_INOVACE_PV3A_13

Předmět: Zeměpis

Tematický okruh: Regiony světa

Ročník: 8.

Školní rok: 2011/2012

Anotace:

Pracovní listy slouží k procvičení a upevnění učiva o severní Evropě.

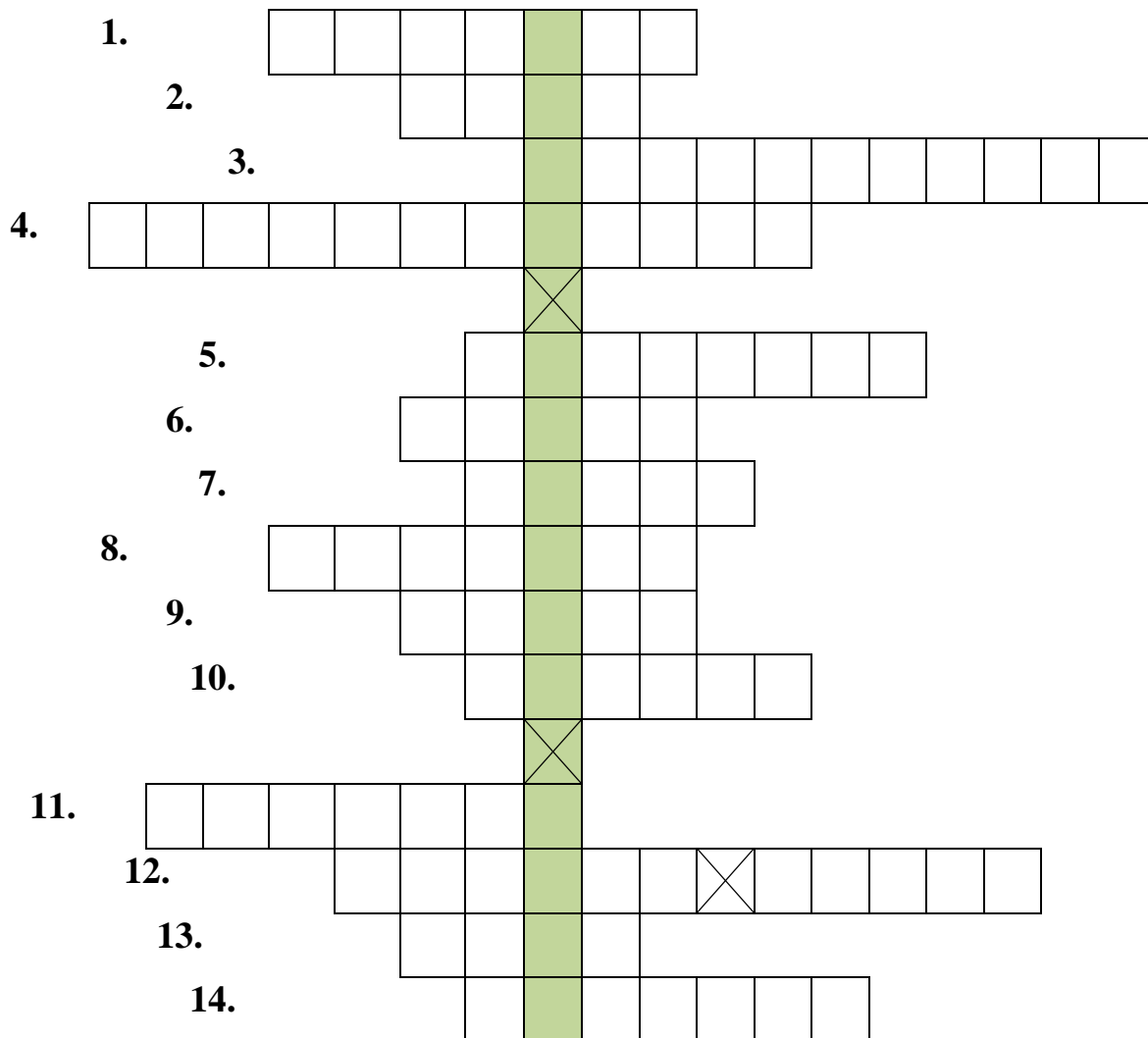
Zdroje:

- galerie SMART Notebook
- archiv autora

1. http://commons.wikimedia.org/wiki/File:Suurkirikko_Helsinki_maaliskuu_2002_IMG_0629.JPG

EU peníze školám Severní Evropa

1. Doplň:



- | | |
|---|---|
| <p>1. A. Nobel vynalezl ...</p> <p>2. Švédská značka aut</p> <p>3. Autorka Děti z Bullerbynu</p> <p>4. Největší poloostrov Evropy</p> <p>5. Kdo byl první na jižním pólu?</p> <p>6. Záliv, který vznikl činností ledovce</p> <p>7. Ve Švédsku se těží ...</p> <p>8. Největší ostrov světa</p> | <p>9. Finská firma vyrábějící mobilní telefony</p> <p>10. Stát, kterému patří Grónsko</p> <p>11. nejdůležitější hospodářské odvětví Islandu</p> <p>12. Finsko je nazýváno zemí ...</p> <p>13. Hlavní město státu, který není v EU</p> <p>14. Etnická menšina žijící na severu Skandinávského poloostrova.</p> |
|---|---|

Nejznámější socha v Kodani je (viz. tajenka) _____

EU peníze školám

2. Podle popisu poznej stát severní Evropy:

a) Nejmenší stát severní Evropy, leží na poloostrově a přilehlých ostrovech.

Hlavní město leží na ostrově Sjælland. Státu patří největší ostrov světa, je to monarchie. Nachází se zde zábavní park Legoland.

stát: _____

b) Ostrovní stát severní Evropy. Stát leží na riftu. Domy jsou vytápěny horkými prameny. Nachází se zde největší pevninský ledovec Evropy Vatnajökull.

stát: _____

c) Stát severní Evropy, jehož obyvatelé mluví ugrofinským jazykem.

Nazývá se také „zemí tisíců jezer“. $\frac{3}{4}$ státu pokrývají lesy. Počet obyvatel je ve srovnání s ČR poloviční.

stát: _____


d) Největší stát severní Evropy. Pochází odtud skupina ABBA a autorka dětských knížek Astrid Lindgrenová. Těží se zde velmi kvalitní železná ruda. stát: _____

e) Monarchie severní Evropy, která není členem EU. Pobřeží je tvořeno fjordy. Důležitý je rybolov. Většina obyvatel žije ve městech Oslo, Trondheim a Bergen.

stát: _____

3. Poznej státy podle obrysů, vybarvi vlajky států a doplň hlavní města.

a) stát: _____ – hl. město: _____




EU peníze školám

b) stát: _____ – hl. město: _____



c) stát: _____ – hl. město: _____



d) stát: _____ – hl. město: _____



e) stát: _____ – hl. město: _____



EU peníze školám

4. Napiš, co do skupiny logicky nepatří a proč?

a) Vänern – Trondheim – Bergen – Oslo – Narvik

nepatří: _____, důvod: _____

b) Reykjavík – Vatnajökull – Hekla – Höfn – Alandy

nepatří: _____, důvod: _____

c) Arhus – Kodaň – Saimaa – Odense – legoland

nepatří: _____, důvod: _____

d) Uppsala – Klaipeda – Malmö – Göteborg - Vättern

nepatří: _____, důvod: _____

e) Odense - Saimaa – Tampere – Turku – Oulu

nepatří: _____, důvod: _____

5. Rozhodni, zda platí:

a) Za polárním kruhem v zimě slunce téměř nevychází. odp.: _____

b) Island se nachází na zlomu litosférických desek. odp.: _____

c) Finové patří k baltské jazykové skupině. odp.: _____

d) Významnou surovinou těženou v Severním moři je ropa a zemní plyn. odp.: _____

e) Hlavním nerostným bohatstvím Švédska je dřevo. odp.: _____

f) Lofoty a Vesterály patří k Dánsku. odp.: _____


6. Ve kterých státech byly vyfoceny dané obrázky? (náповěda: Malá mořská víla, Riddarholmskyrkan a staré město, Jižní přístav a Luteránský chrám)



stát: _____



stát: _____



stát: _____