

## EU peníze školám

VY\_52\_INOVACE\_PV3A\_14

**Předmět: Zeměpis**

**Tematický okruh: Regiony světa**

**Ročník: 8.**

**Školní rok: 2011/2012**

**Anotace:**

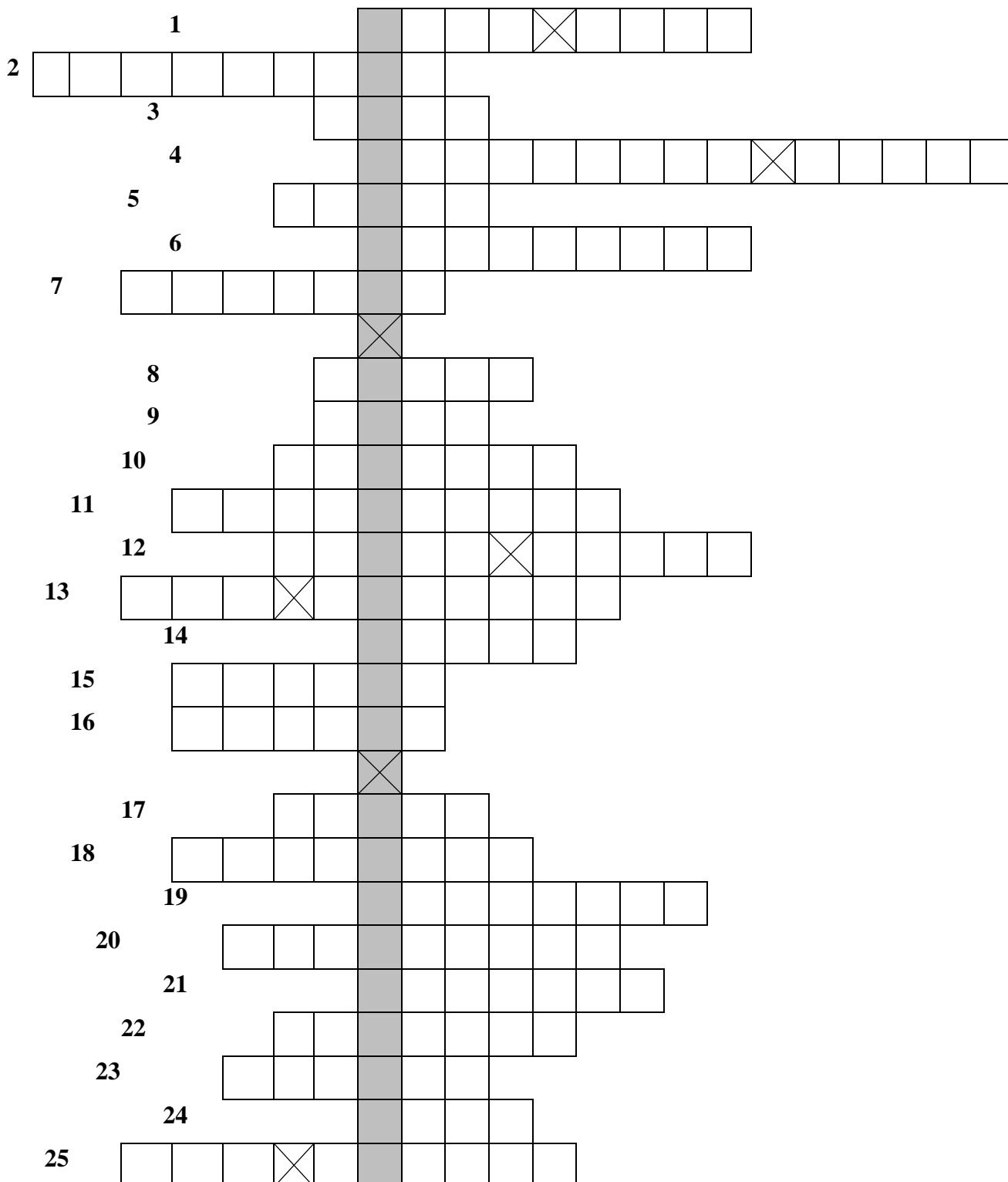
Pracovní listy slouží k procvičení a upevnění učiva o jižní Evropě.

**Zdroje:**

- galerie SMART Notebook

## EU peníze školám Jižní Evropa

### 1. Doplně:



1. Nejznámější dílo Leonarda da Vinciho

2. Město Španělska, které leží na pobřeží Středozemního moře

## EU peníze školám

3. Cestovatel, který objevil mys Dobré naděje Bartolomeo ...
4. Vatikánská armáda
5. Sopka, která zasypala Pompeie
6. Náboženské vyznání obyvatel Itálie
7. Papežský stát
8. Autor katedrály Sagrada Familia
9. Platidlo v Itálii
10. Kláštery na skalách ve středním Řecku
11. Španělsko je první na světě v pěstování ...
12. Část Monaka, ve které jsou nejznámější kasina
13. Strom, ze kterého se získává korek
14. Ostrovní stát na jih od Sicílie
15. Město, ve kterém se nachází opera La Scala
16. strom, ze kterého se získává bobkový list
17. Druhé největší portugalské město, jmenuje se po něm víno
18. Hlavní město Malty
19. Pohoří na hranicích Španělska
20. Státní zřízení Portugalska
21. Město na vodě
22. Souostroví patřící Španělsku
23. Býčí zápasy
24. Ostrovní stát na východě Středozemního moře
25. Stát , který sousedí jen s Itálií

**Na poloostrově Chalkidiki se nachází Athos, což je**  
(viz. *tajenka*) \_\_\_\_\_.

## EU peníze školám


### 2. Podle popisu poznej stát jižní Evropy:

- a) Malý ostrovní stát ležící na jih od Itálie. Dal název jednomu z křesťanských rytířských řádů Johanitů, kteří vlastnili Maltu od 16.stol.  
stát: \_\_\_\_\_
- b) Největší stát jižní Evropy. Monarchie, v čele je král Juan Carlos I. Stát je první na světě v pěstování oliv.  
stát: \_\_\_\_\_
- c) Stát ležící na Pyrenejském poloostrově u pobřeží Atlantského oceánu. Největší producent korku na světě.  
stát: \_\_\_\_\_
- d) Stát, ve kterém na hoře Olymp sídlí starověcí bohové. V hlavním městě státu a jeho nejbližším okolí žije asi 1/3 obyvatel. Největším ostrovem státu je Kréta.  
stát: \_\_\_\_\_
- e) Republika, která je součástí skupiny G8. Největší města se nacházejí na severu státu. Na jihu státu je aktivní sopečná činnost a nachází se zde sopky Etna, Stromboli a Vesuv.  
stát: \_\_\_\_\_
- f) Malý církevní stát, který se nachází uprostřed hlavního města jednoho ze států jižní Evropy.  
stát: \_\_\_\_\_
- g) Stát, který se nachází na Apeninském poloostrově. Hospodářství je založeno na cestovním ruchu a vydávání poštovních známek. Je to nejstarší nezávislá republika na světě (od 1253)  
stát: \_\_\_\_\_
- h) Malý stát na jihu Francie, proslavený kasiny. Rozloha státu je necelé 2km<sup>2</sup>. Je to monarchie, v čele je od roku 2005 kníže Albert II.  
stát: \_\_\_\_\_

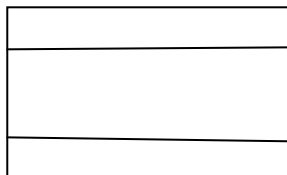
### EU peníze školám

### 3. Poznej státy podle obrysů, vybarvi vlajky států a doplň hlavní města.

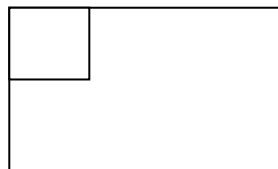
a) stát: \_\_\_\_\_ – hl. město: \_\_\_\_\_



b) stát: \_\_\_\_\_ – hl. město: \_\_\_\_\_



c) stát: \_\_\_\_\_ – hl. město: \_\_\_\_\_



d) stát: \_\_\_\_\_ – hl. město: \_\_\_\_\_

