

**Předmět: Zeměpis**

**Tematický okruh: Regiony světa**

**Ročník: 8.**

**Školní rok: 2011/2012**

**Anotace:**

Pracovní listy slouží k procvičení a upevnění učiva o střední Evropě.

**Zdroje:**

- galerie SMART Notebook


- archiv autora

1. [http://commons.wikimedia.org/wiki/File:Peak\\_of\\_the\\_Matterhorn,\\_seen\\_from\\_Zermatt,\\_Switzerland.jpg](http://commons.wikimedia.org/wiki/File:Peak_of_the_Matterhorn,_seen_from_Zermatt,_Switzerland.jpg)

2. [http://upload.wikimedia.org/wikipedia/commons/0/08/Bratislava\\_castle\\_from\\_south\\_west.jpg](http://upload.wikimedia.org/wikipedia/commons/0/08/Bratislava_castle_from_south_west.jpg)

## EU peníze školám Střední Evropa

### 1. Doplně:



- |   |   |
|---|---|
| 1. Hlavní město Lichtenštejnska                 | 9. Stepi v Rakousku                       |
| 2. Koncentrační tábor v Polsku                  | 10. Nejvyšší pohoří Slovenska             |
| 3. Parlament v Berlíně                          | 11. Nejvyšší hora Švýcarska               |
| 4. Polský astronom, autor heliocentrické teorie | 12. Hudební skladatel, rodák ze Salcburku |
| 5. Přístav na Labi                              | 13. Nejmenší stát střední Evropy          |
| 6. Největší město Švýcarska                     | 14. Úřední jazyk Rakouska                 |
| 7. Pohoří v Rakousku                            | 15. Co láká firmy do Lichtenštejnska?     |
| 8. Největší řeka Rakouska                       |   |

**Česko, Slovensko, Maďarsko a Polsko roku 1991 podepsali smlouvu o spolupráci. Podle místa podpisu smlouvy se jim říká**

(viz. tajenka) \_\_\_\_\_.

## EU peníze školám

### 2. Podle popisu poznej stát střední Evropy:

a) Největší stát střední Evropy, hranice státu tvoří řeky Rýn, Odra, Nisa.

stát: \_\_\_\_\_

b) Nížinatý stát, severní soused Slovenska, největšími přístavy jsou Štětín a

Gdaňsk. stát: \_\_\_\_\_

c) Desetina příjmů země pochází z prodeje poštovních známek. Monarchie, jejíž vládnoucí rod vlastnil i pozemky v České republice.

stát: \_\_\_\_\_

d) Západní soused Ukrajiny. Na území státu žije početná maďarská menšina. Nachází se zde nejvyšší hora Karpat.

stát: \_\_\_\_\_

e) Neutrální stát, není členem NATO, EU ani OSN. Průmysl zaměřen na přesné strojírenství. Finanční a bankovní centrum světa.

stát: \_\_\_\_\_

f) Stát, který není členem NATO, ale je členem EU. Historie státu je propojena s historií Českých zemí.

stát: \_\_\_\_\_

g) Rovinatý stát, většinu území tvoří pusty. Nejdůležitější nerostnou surovinou je bauxit.

stát: \_\_\_\_\_

h) Srdce Evropy.

stát: \_\_\_\_\_

### 3. Poznej státy podle obrysů, vybarvi vlajky států a doplň hlavní města.

a) stát: \_\_\_\_\_ – hl. město: \_\_\_\_\_




1. Záměrná škola Holešov, Smetanovy


Vypracovala: Mgr. Hradilová Simona


## EU peníze školám

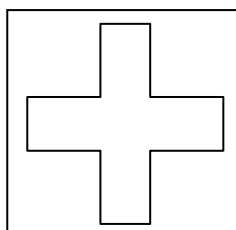
b) stát: \_\_\_\_\_ – hl. město: \_\_\_\_\_




c) stát: \_\_\_\_\_ – hl. město: \_\_\_\_\_



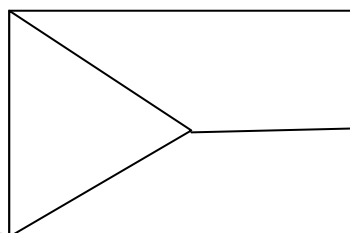
d) stát: \_\_\_\_\_ – hl. město: \_\_\_\_\_



e) stát: \_\_\_\_\_ - hl. město: \_\_\_\_\_



f) stát: \_\_\_\_\_ - hl. město: \_\_\_\_\_



## EU peníze školám

g) stát: \_\_\_\_\_ - hl. město: \_\_\_\_\_




### 4. Rozhodni, zda platí:

- a) Německo patří mezi hospodářsky nejvyspělejší státy Evropy.  
*odpověď:* \_\_\_\_\_
- b) Největší produkce černého uhlí je v Maďarsku. *odpověď:* \_\_\_\_\_
- c) Nejvyšší hory střední Evropy se nacházejí v Polsku. *odpověď:* \_\_\_\_\_
- d) Průmysl Švýcarska je zaměřen na výrobu těžkých strojů a těžebních zařízení. *odpověď:* \_\_\_\_\_

### 5. Ke kterému státu patří obrázek: (nápodvěda: Bratislavský hrad, Reichstag, Matterhorn, Salzburg)




1.

*stát:* \_\_\_\_\_



*stát:* \_\_\_\_\_



2.

*stát:* \_\_\_\_\_



*stát:* \_\_\_\_\_