

EU peníze školám

VY_52_INOVACE_PV3B_12

Předmět: Zeměpis

Tematický okruh: Přírodní obraz Země

Ročník: 6.

Školní rok: 2012/2013

Anotace: Pracovní listy slouží k procvičování učiva o litosféře

Zdroje:

- vlastní tvorba autora

EU peníze školám **LITOSFÉRA A KRAJINNÁ SFÉRA**

VYBER SPRÁVNOU ODPOVĚĎ

1) Litosféra je:

- a) vzdušný obal Země
- b) vodní obal Země
- c) kamenný obal Země
- d) půdní obal Země

2) Oceány jsou na mapách značeny:

- a) modře
- b) hnědě
- c) zeleně
- d) bíle

3) Vesuv je:

- a) řeka
- b) sopka
- c) jezero
- d) stát

4) Kdyby z oceánů zmizela voda, tak středoocéánské hřbety by na souši

byly:

- a) jezerem
- b) nížinou
- c) řekou
- d) pohořím

5) Hypocentrum je:

- a) místo pod povrchem Země, kde vzniká zemětřesení
- b) jiný název pro sopku
- c) místo na povrchu Země, kde je zemětřesení nejsilnější
- d) koňská farma

6) Sopka je:

- a) místo, kde se narodil Soptík
- b) místo, kde dochází k úniku vody
- c) místo, kde se na povrch dostává magma
- d) místo, kde se hromadí láva

7) Posunem po zlomech vzniká:

- a) vrásové pohoří
- b) kerné pohoří
- c) sopka
- d) pevninský šelf

8) Zvětrávání je:

- a) výbuch sopky
- b) otřesy zemské kůry
- c) posun po zlomech
- d) rozpad hornin na zvětraliny

9) Delta je:

- a) sopka
- b) pohoří
- c) řeka
- d) náplavová rovina

10) Na kterém kontinentu leží nejvyšší hora světa?

EU peníze školám

11) Vyber a doplň:

- Oceánská zemská kůra je než pevninská zemská kůra.
- Zemi tvoří ze 71% a z souš.
- Tam, kde se stýkají litosférické desky dochází často k
- Vrásněním vzniká pohoří.

VRÁSOVÉ; KERNÉ; VODA; SOUŠ; 88 %; 29%; TENČÍ; MOCNĚJŠÍ;
ZEMĚTŘESENÍ, POVODNÍM

12) Který přírodní živel vytváří písečné přesypy?

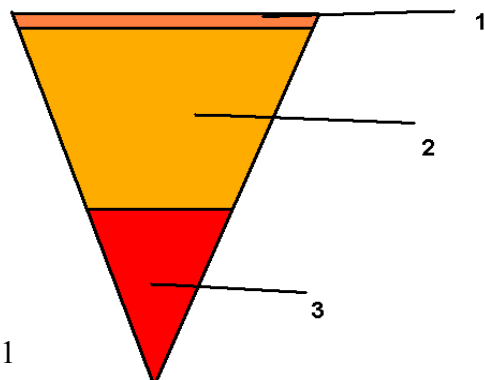
13) Ve kterých oblastech světa hlavně vznikají duny?

14) Na kterém kontinentu najdeš sopku:

- Klučevskaja
- Popocatepetl

15) K číslům doplň jednotlivé části Země podle obr. č. 1.

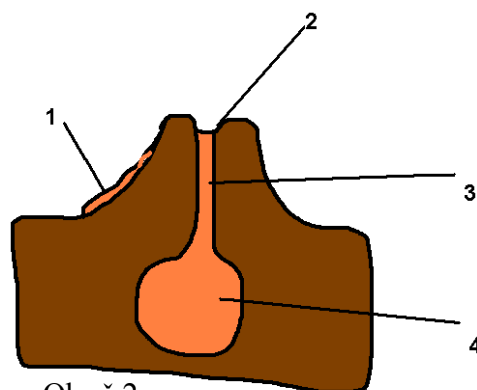
-
-
-



Obr. č.1

16) K písmenům přiřaď čísla obr. č. 2:

- Magmatický krb
- Kráter
- Lávový proud
- Sopouch



Obr.č.2

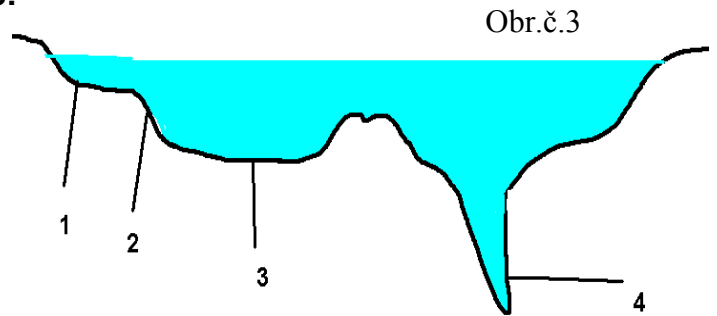
EU peníze školám

17) Vyřeš přesmyčky:

- a) SUVEV
- b) JERÍZG
- c) GAMAM

18) K písmenům přiřaď čísla z obr. č. 3:

- a) pevninský šelf
- b) oceánský příkop
- c) pevninský svah
- d) oceánská pánev



19) Co se děje s horninami při zvětrávání?

20) Kterí činitelé se podílí na zvětrávání hornin

- a) _____
- b) _____
- c) _____
- d) _____

21) Správně spoj:

- | | |
|---------------|----------------------|
| a) LITOSFÉRA | 1. vodní obal Země |
| b) ATMOSFÉRA | 2. kamenný obal Země |
| c) HYDROSFÉRA | 3. vše živé na Zemi |
| d) PEDOSFÉRA | 4. vzdušný obal Země |
| e) BIOSFÉRA | 5. půdní obal Země |

22) Vyber vše, co správně popisuje fyzickogeografickou sféru:

- a) je součástí krajinné sféry
- b) je spojená s činností člověka na Zemi
- c) zkoumá ji tzv. FYZICKÁ GEOGRAFIE
- d) zabývá se zkoumáním přírodních jevů a dějů v litosféře, atmosféře