

## EU peníze školám

VY\_52\_INOVACE\_PV6A\_31

### Pracovní list: Křižovatky

**Předmět:** Přírodověda

**Tematický okruh:** Dopravní výchova

**Ročník:** 4.

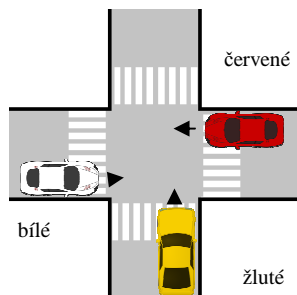
**Školní rok:** 2011/2012

**Anotace:** Řešení jednoduché dopravní situace na křižovatkách bez značení a s dopravním značením.

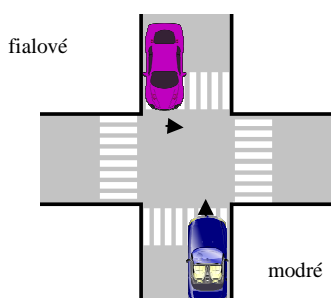
**Zdroje:** [www.clker.com](http://www.clker.com)  
- volná díla  
Osobní archiv autora.

## EU peníze školám

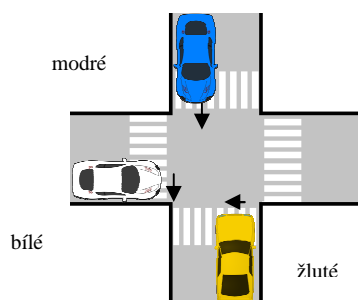
### 1. Vyberte správnou odpověď:



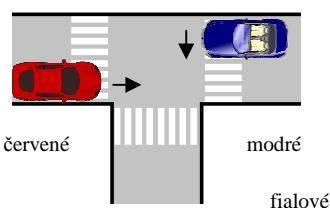
- první projede křižovatkou bílé auto, protože má po levé ruce volno.
- první projede křižovatkou červené auto, protože má po pravé ruce volno.
- první projede křižovatkou žluté auto, protože má volno naproti sobě.



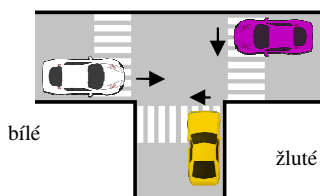
- modré auto má přednost, protože nemění směr jízdy a má volno po pravé ruce
- fialové auto má přednost, protože má volno po pravé ruce
- ani jeden nemá přednost, záleží na osobní domluvě



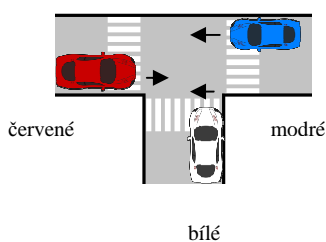
- jako poslední projede křižovatkou žluté auto
- jako poslední projede křižovatkou bílé auto
- jako poslední projede křižovatkou modré auto



- modré auto má přednost, protože zabočuje na prázdnou silnici
- modré auto má přednost díky pravidlu pravé ruky
- modré auto nemá přednost



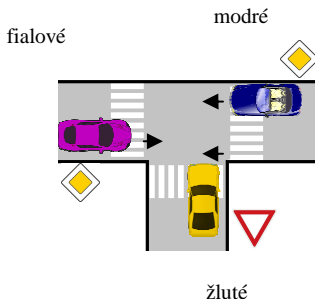
- jako první projede křižovatkou fialové auto
- jako první projede křižovatkou bílé auto
- jako první projede křižovatkou žluté auto



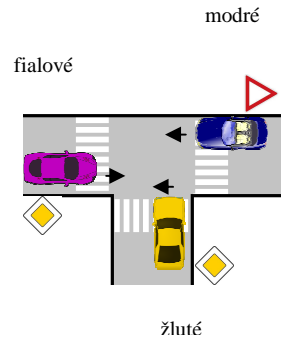
- první vyjedou současně auta modré a červené, potom bílé
- první pojede bílé a poté současně modré a červené
- první pojede modré, potom bílé a poslední červené

## EU peníze školám

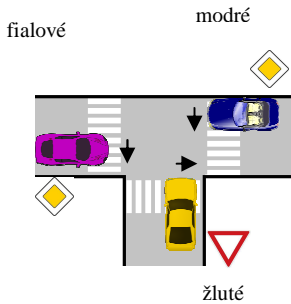
### 2. Napiš pořadí aut, v kterém projedou křižovatkou:



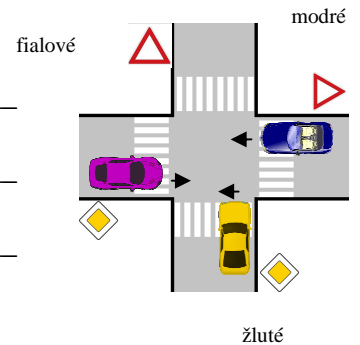
1. \_\_\_\_\_
2. \_\_\_\_\_
3. \_\_\_\_\_



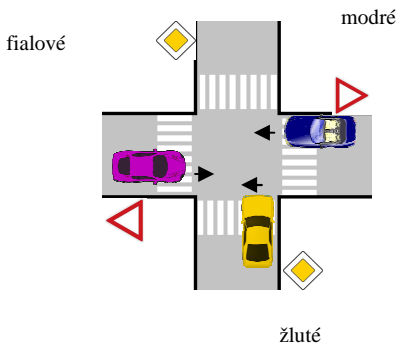
1. \_\_\_\_\_
2. \_\_\_\_\_
3. \_\_\_\_\_



1. \_\_\_\_\_
2. \_\_\_\_\_
3. \_\_\_\_\_



1. \_\_\_\_\_
2. \_\_\_\_\_
3. \_\_\_\_\_



1. \_\_\_\_\_
2. \_\_\_\_\_
3. \_\_\_\_\_

1. \_\_\_\_\_
2. \_\_\_\_\_
3. \_\_\_\_\_

